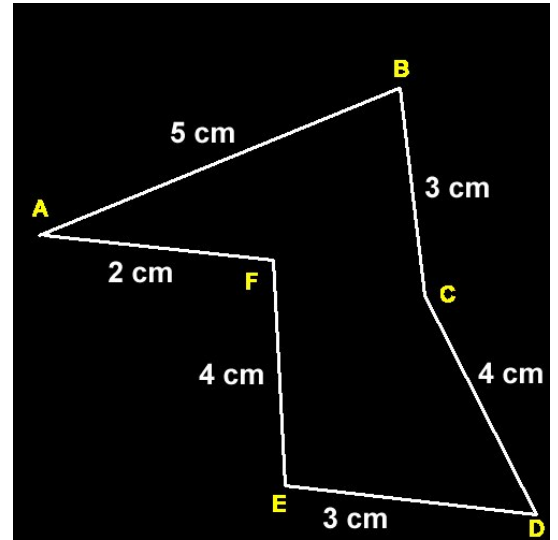


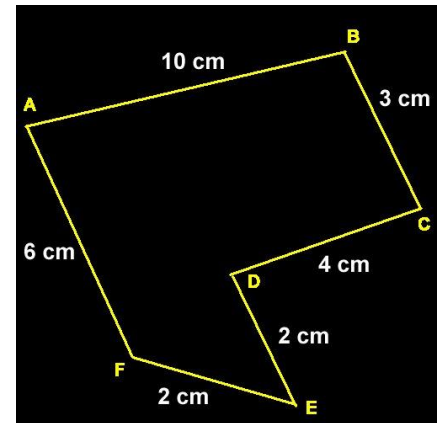
Périmètre des polygones

1) Compléter le tableau niveau 01

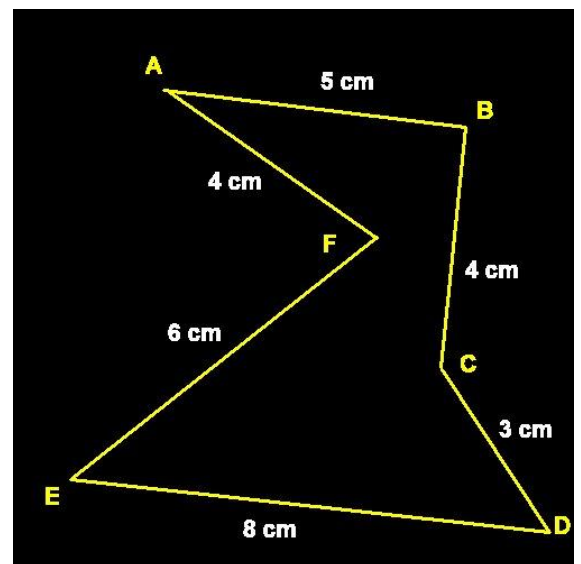
Côté	Dimension	Côté	Dimension
AB	DE
BC	EF
CD	FA
<i>Périmètre :</i>		



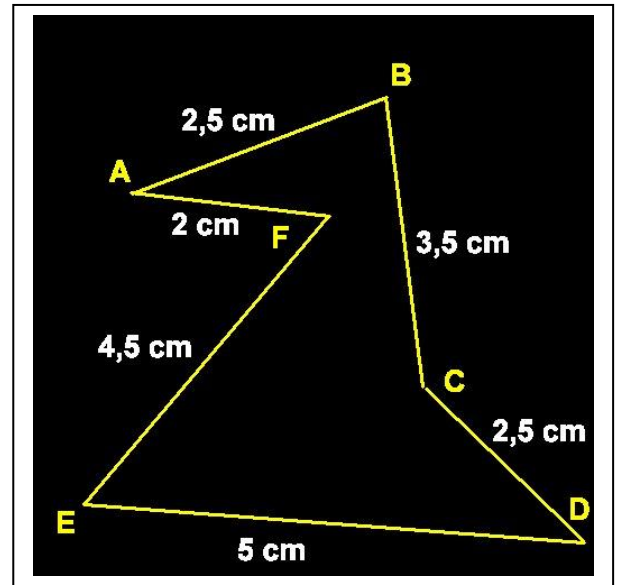
Côté	Dimension	Côté	Dimension
AB	DE
BC	EF
CD	FA
<i>Périmètre :</i>		



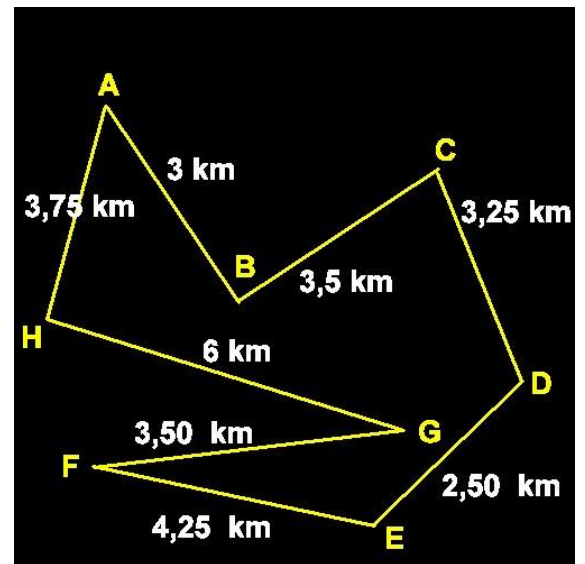
Côté	Dimension	Côté	Dimension
AB	DE
BC	EF
CD	FA
<i>Périmètre :</i>		



Côté	Dimension	Côté	Dimension
AB	DE
BC	EF
CD	FA
<i>Périmètre :</i>		

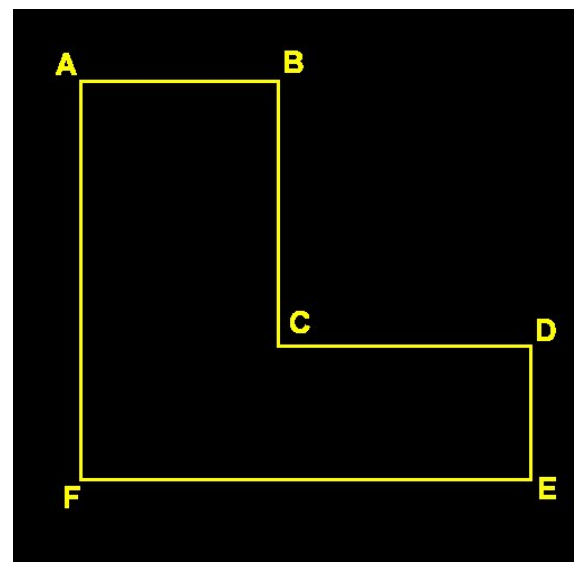


Côté	Dimension	Côté	Dimension
AB	EF
BC	FG
CD	GH
DE	HA
<i>Périmètre :</i>		

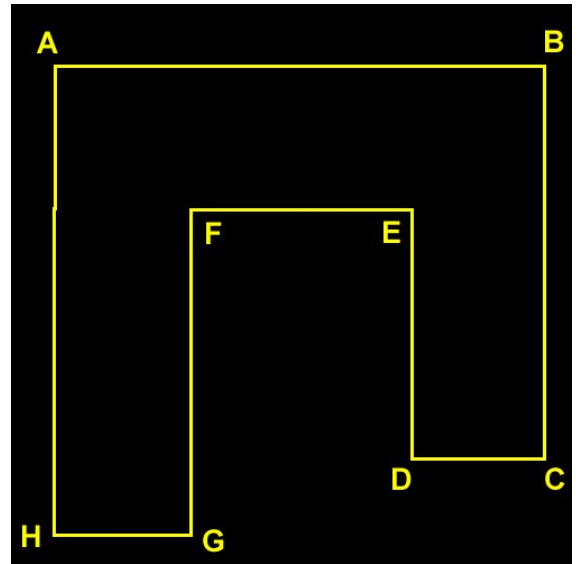


II) Compléter le tableau niveau 02

Côté	Dimension	Côté	Dimension
AB	4 cm	DE	2 cm
BC	6 cm	EF
CD	3 cm	FA
<i>Périmètre :</i>		



Côté	Dimension	Côté	Dimension
A B	E F	4 cm
B C	8 cm	F G	4 cm
C D	3 cm	G H	3 cm
D E	6 cm	H A	12 cm
<i>Périmètre :</i>		



Côté	Dimension	Côté	Dimension
AB	3 cm	EF	4 cm
BC	2 cm	FG	3 cm
CD	GH
DE	HA	10 cm
<i>Périmètre :</i>		

