




5. Entoure quand tu vois la syllabe demandée.




man	maman maman	manchot manchot	amande amande	mentir mentir
fan	fantôme fantôme	fanfare fanfare	flan flan	fanfaronne fanfaronne
ven	vendre vendre	vendredi vendredi	vente vente	fendre fendre

6. Dessine un rond pour chaque son et coche le rond du son **an**.



7. Écris les mots sous les dessins. Ils s'écrivent tous avec « an ».

• Le  vend son .

• Le  et  avec sa .

8. Écris à côté de chaque image son ou sa.



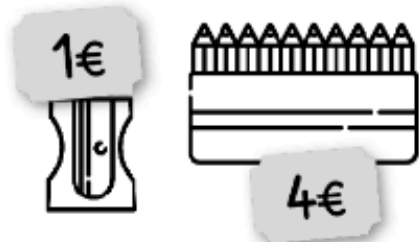
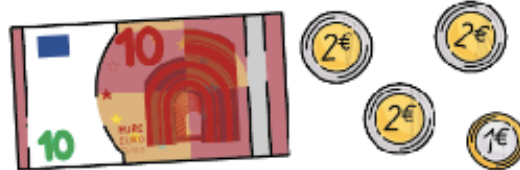
9. Écris une phrase avec le mot : plus.

Handwriting lines for writing a sentence.

26 Résoudre des problèmes impliquant des prix (2)

✓ Je résous des problèmes avec les euros en utilisant des opérations.

1 Sami veut acheter une trousse, un taille-crayon et une pochette de feutres. Combien va-t-il payer en tout? Entoure les pièces et les billets qu'il faut.

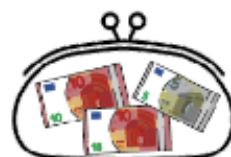
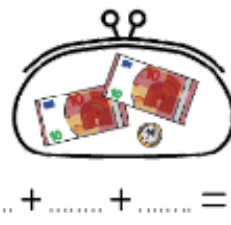
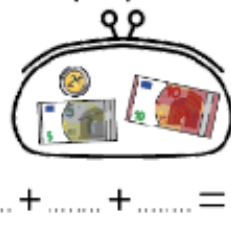


Écris le calcul:

..... + + =

Sami va payer euros.

2 Calcule la somme dans chaque portemonnaie.



..... + =

..... + =

..... + =


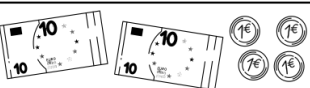
Trace avec la règle.



3 Barre ce qui est en trop pour payer exactement les objets à acheter.



Complète le tableau.

 24	$10 + 10 + 4$	$20 + 4$	
27 + +	$20 + 7$	
.....	$10 + 10 + 3$ +	